

EXERCICE N°1

Soit ABC un triangle isocèle, rectangle en A.

1°) Prouver sans calcul, que le vecteur $\vec{u} = (\overrightarrow{BC} \wedge \overrightarrow{BA}) \wedge \overrightarrow{AC}$ est colinéaire à \overrightarrow{AB} et que le vecteur $\vec{v} = \overrightarrow{BC} \wedge (\overrightarrow{BA} \wedge \overrightarrow{AC})$ est colinéaire à $\overrightarrow{AB} + \overrightarrow{AC}$.

2°) Déterminer les vecteurs \vec{u} et \vec{v} .

3°) Le produit vectoriel est-il une opération associative ?

EXERCICE N°2

Dans l'espace ξ , rapporté à un repère orthonormé direct $(O, \vec{i}, \vec{j}, \vec{k})$.

Soient $\vec{u}, \vec{v}, \vec{w}$ les vecteurs définis par : $\vec{u} = \frac{1}{2}(\vec{i} - \sqrt{3}\vec{j})$, $\vec{v} = \frac{1}{4}(\sqrt{6}\vec{i} + \sqrt{2}\vec{j} - 2\sqrt{2}\vec{k})$

et $\vec{w} = \frac{1}{4}(\sqrt{6}\vec{i} + \sqrt{2}\vec{j} + 2\sqrt{2}\vec{k})$

1°) Démontrer que $(\vec{u}, \vec{v}, \vec{w})$ est une base orthonormale.

2°) Cette base est-elle directe ou indirecte ?

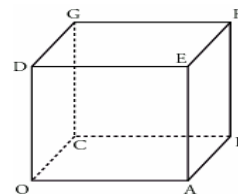
EXERCICE N°3

Soit le cube OABCDEFG représenté par la figure ci-dessous.

L'espace est orienté par le repère orthonormal direct $(O; \overrightarrow{OA}, \overrightarrow{OC}, \overrightarrow{OD})$.

On désigne par a un réel strictement positif.

L, M, et K sont les points définis par $\overrightarrow{OL} = a\overrightarrow{OC}$, $\overrightarrow{OM} = a\overrightarrow{OA}$ et $\overrightarrow{BK} = a\overrightarrow{BF}$.



1°) a) Calculer les coordonnées du vecteur $\overrightarrow{DM} \wedge \overrightarrow{DL}$.

b) En déduire l'aire du triangle DLM.

c) Démontrer que la droite (OK) est orthogonale au plan (DLM).

2°) On note H le projeté orthogonal de O (et de K) sur le plan (DLM).

a) Démontrer que $\overrightarrow{OM} \cdot \overrightarrow{OK} = \overrightarrow{OH} \cdot \overrightarrow{OK}$.

b) Les vecteurs \overrightarrow{OH} et \overrightarrow{OK} étant colinéaires, on note λ le réel tel que $\overrightarrow{OH} = \lambda\overrightarrow{OK}$.

Démontrer que $\lambda = \frac{a}{a^2 + 2}$. En déduire que H appartient au segment [OK].

c) Déterminer les coordonnées de H.

d) Exprimer \overrightarrow{HK} en fonction de \overrightarrow{OK} . En déduire que $HK = \frac{a^2 - a + 2}{\sqrt{a^2 + 2}}$.

EXERCICE N°4

Soient a un réel strictement positif et OABC un tétraèdre tel que :

- OAB, OAC et OBC sont des triangles rectangles en O,
- $OA = OB = OC = a$.

On appelle I le pied de la hauteur issue de C du triangle ABC, H le pied de la hauteur issue de O du triangle OIC, et D le point de l'espace défini par :

1°) Quelle est la nature du triangle ABC ?

2°) Démontrer que les droites (OH) et (AB) sont orthogonales, puis que H est l'orthocentre du triangle ABC.

3°) Calcul de OH

a) Calculer le volume V du tétraèdre OABC puis l'aire S du triangle ABC.



b) Exprimer OH en fonction de V et de S , en déduire que $OH = a \frac{\sqrt{3}}{3}$.

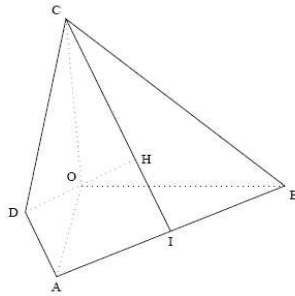
4°) Étude du tétraèdre $ABCD$.

L'espace est rapporté au repère orthonormal, $\left(O, \frac{1}{a}\overrightarrow{OA}, \frac{1}{b}\overrightarrow{OB}, \frac{1}{c}\overrightarrow{OC}\right)$

a) Démontrer que le point H a pour coordonnées $\left(\frac{a}{3}, \frac{a}{3}, \frac{a}{3}\right)$

b) Démontrer que le tétraèdre $ABCD$ est régulier (c'est-à-dire que toutes ses arêtes ont même longueur).

c) Soit Ω le centre de la sphère circonscrite au tétraèdre $ABCD$. Démontrer que Ω est un point de la droite (OH) puis calculer ses coordonnées.



EXERCICE N°5 (Bac.Sc 2008p).

L'espace est rapporté à un repère orthonormé direct $(O, \vec{i}, \vec{j}, \vec{k})$

On considère les points $A(3, 2, 6)$; $B(1, 2, 4)$ et $C(4, -2, 5)$.

1°) a) Calculer les composantes du vecteur $\overrightarrow{AB} \wedge \overrightarrow{AC}$.

b) En déduire que les points A , B et C ne sont pas alignés.

c) Calculer le volume du tétraèdre $OABC$.

2°) Soit H le projeté orthogonal du point O sur le plan (ABC) .

Montrer que $OH = \frac{4}{3}$.

3°) Soit S la sphère de centre O et passant par A .

a) Justifier que l'intersection de S avec le plan (ABC) est un cercle ζ de centre H .

b) Calculer le rayon du cercle ζ .

EXERCICE N°6

Soient les points $A(1; 0; 0)$, $B(0; 1; 1)$, $C(0; -1; -1)$, $D(-1; 1; -1)$ dans un repère orthonormal $(O; \vec{i}, \vec{j}, \vec{k})$.

1°) a) Calculer l'aire du triangle ABC .

b) Déterminer une équation cartésienne du plan (ABC) .

c) Vérifier que D n'appartient pas au plan (ABC) .

2°) a) Déterminer un système d'équations paramétriques de la droite (Δ) passant par D et perpendiculaire au plan (ABC) .

b) Déterminer les coordonnées du point d'intersection H de la droite (Δ) et du plan (ABC) .

c) En déduire la distance du point D au plan (ABC) .

3°) Calculer le volume du tétraèdre $ABCD$.

4°) a) Déterminer une équation cartésienne du plan médiateur (P) du segment $[DC]$.

b) Déterminer un système d'équations paramétriques de la droite (Δ') d'intersection des plans (P) et (ABC)

EXERCICE N°7 (Bac 95C)

L'espace étant rapporté à un repère orthonormé $R = (O, \vec{i}, \vec{j}, \vec{k})$.


On considère les points : $A(2, -3, -1)$, $B(1, 0, 2)$ et $C(0, 1, 3)$

1°) a) Montrer que les points A , B et C ne sont pas alignés.

b) Ecrire une équation cartésienne du Plan P passant par les points A , B et C .

2°) Pour tout réel t de l'intervalle $[-\pi, \pi[$, on considère l'ensemble S_t des points $M(x, y, z)$ vérifiant l'équation : $x^2 + y^2 + z^2 - 2tx - 2y \sin t + 2z + t^2 + \sin^2 t - 1 = 0$

Montrer que S_t est une sphère dont on précisera le centre et le rayon.



3°) a) Etudier, suivant les valeurs de t , l'intersection de la sphère S_t et du plan P .

b) Dans le cas où le plan P est tangent à la sphère S_t , déterminer les coordonnées du point de contact.

EXERCICE N°8 (Bac 96P)

L'espace étant rapporté à un repère orthonormé $R = (O, \vec{i}, \vec{j}, \vec{k})$.

On considère les points : $A(1, 2, -1)$ et $B(2, 1, 1)$.

1°) Déterminer une équation du plan Q passant par A et perpendiculaire à la droite (AB) .

2°) Soit P_m le plan d'équation : $x + y + m - 3 = 0$ où m est paramètre réel.

a) Montrer que la droite (AB) est parallèle au plan P_m .

b) Pour quelle valeur de m la droite (AB) est-elle incluse dans le plan P_m ?

c) Montrer que le plan P_m est perpendiculaire au plan Q .

3°) Soit B' le projeté orthogonal de B sur P_m et A' le projeté orthogonal de A sur P_m .

Déterminer les valeurs de m pour que $ABB'A'$ soit un carré.

EXERCICE N°9 (Bac 97P)

Dans l'espace ξ rapporté à un repère orthonormé $R = (O, \vec{i}, \vec{j}, \vec{k})$.

On donne les points $A(1, -1, 2)$ et $B(-1, 1, -2)$.

1°) Donner une représentation paramétrique de la droite (AB) .

2°) Soit P le plan passant par A et perpendiculaire à la droite (AB) et Q le plan dont une équation cartésienne est : $x - y + 2z + 6 = 0$.

a) Donner une équation cartésienne du plan P .

b) Vérifier que le plan Q passe par le point B et est parallèle au plan P .

3°) On considère la sphère (S) tangente en B au plan Q et dont l'intersection avec le plan P est le cercle de centre A et de rayon $2\sqrt{3}$.

On désigne par I le centre de la sphère (S) et par (a, b, c) les coordonnées de I .

a) Montrer que le point I appartient à la droite (AB) .

b) En déduire que : $b = -a$ et $c = 2a$.

c) Montrer que $IB^2 - IA^2 = 12$ et en déduire que : $a - b + 2c = 3$.

d) Déterminer alors les coordonnées du point I et écrire une équation cartésienne de (S) .

EXERCICE N°10

Partie A

L'espace E est rapporté à un repère orthonormal $(O; \vec{i}, \vec{j}, \vec{k})$. Les points A, B, C et D ont pour coordonnées respectives : $A(-1; 0; 2)$, $B(3; 2; -4)$, $C(1; -4; 2)$, $D(5; -2; 4)$.

On considère les points I, J et K définis par : I milieu de $[AB]$, K milieu de $[CD]$ et $\vec{BJ} = \frac{1}{4}\vec{BC}$.

1°) Déterminer les coordonnées des points I, J et K .

2°) a) Montrer que les points I, J et K ne sont pas alignés.

b) Justifier qu'une équation cartésienne du plan (IJK) est : $8x + 9y + 5z - 12 = 0$.

c) Déterminer une représentation paramétrique de la droite (AD) et montrer que le plan (IJK) et la droite (AD) sont sécants en un point L dont on déterminera les coordonnées.

d) Montrer que $\vec{AL} = \frac{1}{4}\vec{AD}$.

Partie B

Plus généralement, dans l'espace E , on considère un tétraèdre $ABCD$ ainsi que les points I, J, K et L définis

par : I milieu de $[AB]$, K milieu de $[CD]$, $\vec{BJ} = \frac{1}{4}\vec{BC}$ et $\vec{AL} = \frac{1}{4}\vec{AD}$.

Soit G le barycentre de $\{(A; 3); (B; 3); (C; 1); (D; 1)\}$.

1°) Déterminer le barycentre de $\{(A; 3); (D; 1)\}$ et le barycentre de $\{(B; 3); (C; 1)\}$.

2°) Démontrer que les droites (IK) et (JL) sont sécantes.

3°) Soit P le milieu de $[IK]$, déterminer l'ensemble des points M de l'espace E tels que :

$$\left\| 3\vec{MA} + 3\vec{MB} + \vec{MC} + \vec{MD} \right\| = 2 \left\| \vec{MA} + \vec{MB} + \vec{MC} + \vec{MD} \right\|.$$

EXERCICE N°11

Soient les points $A(1; 0; 0)$, $B(0; 1; 1)$, $C(0; -1; -1)$, $D(-1; 1; -1)$ dans un repère orthonormal $(O; \vec{i}, \vec{j}, \vec{k})$.

1°) a) Calculer l'aire du triangle ABC .

b) Déterminer une équation cartésienne du plan (ABC) .

c) Vérifier que D n'appartient pas au plan (ABC) .



- 2° a) Déterminer un système d'équations paramétriques de la droite (Δ) passant par D et perpendiculaire au plan (ABC).
 b) Déterminer les coordonnées du point d'intersection H de la droite (Δ) et du plan (ABC).
 c) En déduire la distance du point D au plan (ABC).

3° Calculer le volume du tétraèdre $ABCD$.

4° a) Déterminer une équation cartésienne du plan médiateur (P) du segment $[DC]$.

b) Déterminer un système d'équations paramétriques de la droite (Δ') d'intersection des plans (P) et (ABC)

EXERCICE N°12

L'espace est orienté par le repère orthonormal direct $(O; \vec{i}, \vec{j}, \vec{k})$

Soient les points $A(6;0;0)$, $B(0;6;0)$.

1° Déterminer les coordonnées du barycentre G des points pondérés $(O;1)$, $(A;2)$, $(B;3)$.

2° Soit le point $C(0;0;4)$. On note S l'ensemble des points M de l'espace tels que :

$(\vec{MO} + 2\vec{MA} + 3\vec{MB}) \cdot \vec{MC} = 0$ Déterminer une équation cartésienne de S .

Quelle est la nature de S ? Précisez ses éléments.

3° P est l'ensemble des points M de l'espace tels que : $MO^2 + 2MA^2 - 3MB^2 = 24$

a) Montrer que G appartient à P .

b) Montrer que M appartient à P si et seulement si $\vec{MG} \cdot \vec{u} = 0$, \vec{u} désignant le vecteur $2\vec{i} - 3\vec{j}$.

En déduire la nature et une équation de l'ensemble P .

